





## Stand M : La pagode

### consignes élèves

Voici le modèle d'une pagode.

Déterminer le volume intérieur de cette pagode au  $\text{dm}^3$  près.

Vous pouvez utiliser les outils du logiciel suivants :

- ✓ l'outil  qui permet de faire tourner la pagode dans l'espace.
- ✓ l'outil  pour déplacer la pagode dans l'espace.
- ✓ L'outil  pour agrandir ou réduire la pagode (ou molette de la souris).
- ✓ L'outil  pour mesurer des parties de la pagode.

Vous pouvez également utiliser votre calculatrice et du brouillon.

Une seule réponse est attendue en 15 minutes maximum.